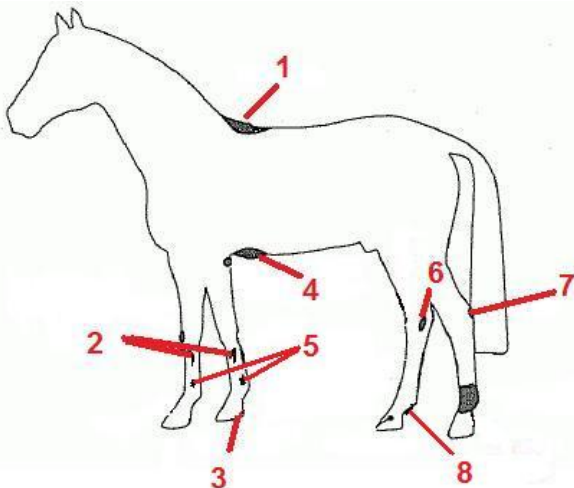


1. Na rysunku zaznaczono cyframi od 1 do 8 wybrane okolice występowania zmian chorobowych u konia. Wykorzystując dane zamieszczone w poniższej ramce do każdej cyfry dopasuj odpowiednią zmianę chorobową.

szpat, odsednienie, opoje, zatrat piętki, pipak, zapopreżenie, gruda, nakostniaki



- 1-.....
- 2-.....
- 3-.....
- 4-.....
- 5-.....
- 6-.....
- 7-.....
- 8-.....

2. Przeczytaj poniższe stwierdzenia, a następnie zweryfikuj ich prawdziwość. Jeśli uważasz, że zdanie jest prawdziwe - wstaw literkę P. Natomiast jeżeli uznasz, że zdanie jest fałszywe, dopisz literkę F.


- A. Przyczyną zagwożdżenia jest utrzymywanie konia na wilgotnej, głębokiej ściółce.
- B. Kolki są bardzo często przyczyną padnięcia koni.
- C. Nieusunięty kamień zakleszczony pomiędzy podkową a kopytem może doprowadzić do podbicia.
- D. U koni nie odnotowano przypadków wścieklizny.
- E. Pipak to wada piękności występująca w okolicy guza łokciowego.
- F. Ochwat u konia to ostre, rozlane zapalenie tworzywa kopytowego.

3. Uzupełnij poniższe zdania.

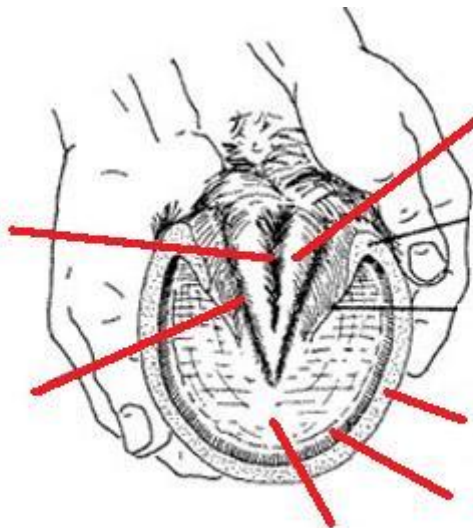
- A. Obowiązkowo szczepi się konie sportowe przeciwko A ponadto szczepi się konie przeciwko i przeciwko
- B. Narośla kostne na kościach kończyn noszą nazwę
- C. Temperatura ciała koni mieści się w granicach - °C.
- D. Inna nazwa choroby poświętecznej to
- E. Objawy to niepokój konia, przyspieszony oddech, pocenie się, pokładanie się, grzebanie przednimi kończynami, przybieranie nienaturalnych pozycji (np. siedzącego psa), częste tarzanie się, bicie po brzuch tylnymi kończynami, częste oglądanie się na boki.

4. Zaznacz na rysunku:

a). łokieć, kolano, kłąb, staw barkowy, przedramię, pęcinę, łopatkę, guz biodrowy, staw skokowy;



b). rowek pośrodkowy, ścianę kopyta, strzałkę, podeszwę, rowek przysrzałkowy, linię białą.



5. Jakie cechy zewnętrznego wyglądu konia mogą świadczyć o jego złym stanie zdrowia?